


### Opdracht 1

Kijk heel goed naar alle voorwerpen om je heen. Wat je ziet, hoort bij de Romeinse tijd van Nederland. In je boekje zie je acht tekeningen van voorwerpen. Omcirkel alleen de twee voorwerpen die bij de Romeinse tijd horen.

Kan je ze ook vinden op de kijkplaat?



2




Rijksmuseum van **Oudheden**

### Opdracht 3

Oh wat mooi! Dat is echt één van de allermeeste spelden die in Nederland gevonden is. Heb je de speld in het museum gevonden? Een kledingspeld uit de Middeleeuwen noemen we een fibula. Deze speld heet 'de fibula van Dorestad', omdat hij in Dorestad is gevonden. Dorestad bestaat niet meer. Op die plek is nu het stadje Wijk bij Duurstede.

Hieronder is de speld getekend, maar niet ingekleurd. Kan jij dat doen?



Kan je de fibula ook vinden op de kijkplaat?

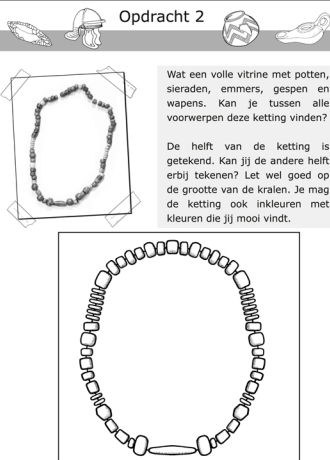
Ja

5

### Opdracht 2

Wat een volle vitrine met potten, sieraden, emmers, gespen en wapens. Kan je tussen alle voorwerpen deze ketting vinden?

De helft van de ketting is getekend. Kan jij de andere helft erbij tekenen? Let wel goed op de grootte van de kralen. Je mag de ketting ook inkleuren met kleuren die jij mooi vindt.



Kun je zulke kralenkettingen ook op de kijkplaat vinden?

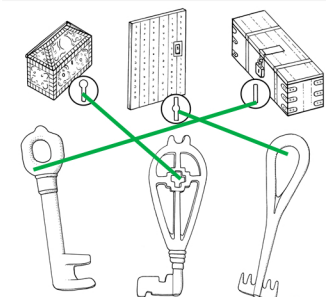
Ja

4

### Opdracht 4

Ga op zoek naar de sleutels! Heb je ze gevonden? Je mag het krukje gebruiken, want ze liggen best hoog.

Hieronder zie je een aantal sleutels en sleutelgaten. Trek een lijn tussen de sleutels en het juiste sleutelgat.



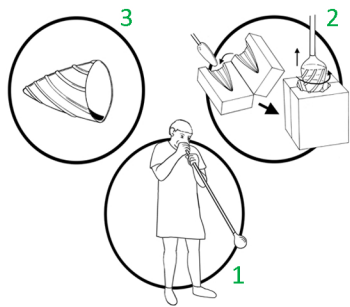
Kijk nog eens goed naar de kijkplaat. Wie dragen de sleutels bij zich?



6

### Opdracht 5

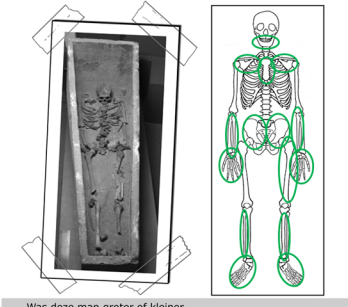
In Dorestad werd mooi glaswerk gemaakt, maar er werd ook gehandeld in duur glas uit het buitenland. Kan je de vitrine met glaswerk vinden? Hieronder zie je drie plaatjes met hoe glas werd gemaakt. Ze staan niet in de goede volgorde. Zet jij ze in de juiste volgorde door bij de plaatjes 1, 2 en 3 te zetten?



7

### Opdracht 6

Sleep heel voorzichtig naar de stenen grafkist. Zie je wat erin ligt? Een echt skelet van een man! Hieronder zie je een foto van het skelet uit de Middeleeuwen en een tekening van een compleet skelet. Kijk heel goed. Welke botten mis je of zijn kapot bij het Middeleeuwse skelet? Zet een cirkel op de tekening om de botten die je mist en de botten die kapot zijn.

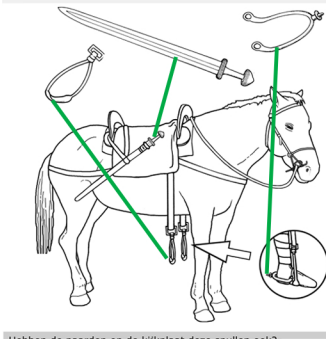


Was deze man groter of kleiner dan jouw juf of meester?

8

### Opdracht 7

In een grote vitrine zijn zwaarden en andere metalen voorwerpen te zien. Deze voorwerpen werden gebruikt als je te paard op reis ging. Waar horen de spullen? Trek bij elk voorwerp een lijn naar de juiste plaats op het paard.



Hebben de paarden op de kijkplaat deze spullen ook?

Ja

9

### Opdracht 8

Kruip heel voorzichtig naar de slaapplek onder het grote, witte lint. Pas op, misschien ligt er wel iemand te slapen.

Het bed is in elkaar gezet zonder spijkers. Toch valt het niet uit elkaar. Kan je tekenen hoe ze dat dan doen?



Met een wig.

10

### Opdracht 9



Hier zie je een foto van een want uit de Vroege Middeleeuwen. Kan je deze vinden in het museum? Je moet goed zoeken, want hij is verstopt.

Teken een moderne want zoals jij die kent. Omcirkel daarna de onderdelen die anders zijn.



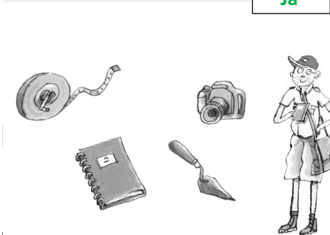
Wat de verschillen zijn tussen de twee wanten, is afhankelijk van de tekening van het kind. Hiernaast is het belangrijkste onderdeel, dat anders is, omcirkeld.

Deze wanten werden gebruikt voor het sjouwen van zware spullen.

11

### Opdracht 10

Deze spullen zijn verstopt op de kijkplaat. Het zijn de spullen van een archeoloog. Kan jij ze allemaal vinden?



Ja

12